



Les sentiers de Goué et de l'Étouyer

Cycle 2

Le sentier de Goué - Les loisirs

1 « Les années folles »

Observez ce bateau : vos arrière-grands-parents s'en servaient pour se promener sur la Charente.

Comment s'appelle-t-il ? Qu'utilise-t-on aujourd'hui ?

.....

.....



2 « Baignade et Natation »

Sur le panneau, tu vois l'ancienne piscine de Mansle ; avant sa construction, où se baignait-on ?

.....

.....

3 « Les courses hippiques »

Sais-tu comment s'appelle cet endroit ? Que s'y passe-t-il ?

.....

.....

Retrouve quels loisirs étaient très pratiqués pendant les Années folles.

- La musique La natation La peinture
 Les jeux-vidéo L'équitation

Découvre le nom de la plaine des loisirs de Mansle (Déchiffre cette charade)

1. Qu'il soit du coq ou de blé, mon premier se trouve à la campagne
2. Chez une vache, le lait sort de mon deuxième
3. Mon troisième est un pronom personnel indéfini

Réponse :

.....

.....

4 « Les promenades à pied »

Petit débat : Que pouvait-on faire le dimanche ?

.....


.....



5 « Les promenades en voiture »

Autrefois, on utilisait des voitures hippomobiles... de quoi s'agit-il ?

.....



6 « Le pique-nique du dimanche »

Que pêchait-on lors des pique-niques au bord de la Charente ?

.....

Vous pouvez soit revenir au point de départ soit poursuivre sur le sentier de Goué...

« La prairie banale de Goué »

a) Par quoi a-t-on remplacé le fauchage à la main ?

.....



b) Quels sont les animaux présents dans la prairie ? (Entoure les bonnes réponses).



Le sanglier



Le chevreuil



Le boa



Le ragondin



La pieuvre



Les batraciens

7 « Fossés et rigadous »

A quoi servent les fossés et rigadous ?

8 « Le ragondin »

Repère un terrier de ragondin ! Où va-t-il chercher sa nourriture ?

.....



9 « La frênaie spontanée »

A quel arbre appartient cette feuille composée ?

.....



Observatoire

A) Quels sont les 6 oiseaux que l'on peut voir depuis cet observatoire ?

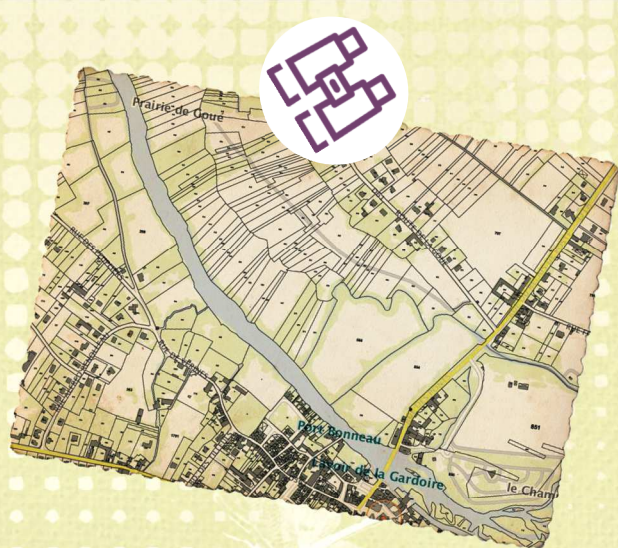
.....

B) En connais-tu d'autres ?

.....

10 « La Charente et l'accès à l'eau »

Regarde la forme des prés au bord de la Charente : ils sont tous très allongés : pourquoi ?



11 « La fritillaire »

La fritillaire pintade pousse dans cette prairie.

C'est un milieu ... (barre la mauvaise réponse) : **humide - sec**

La frênaie :

Regarde autour de toi et replace chaque espèce dans son habitat.

La Mésange bleue

La Rainette arboricole

Le Paon-du-jour

Le Lorient

Le Pic épeiche

Le Grand murin

La Salamandre


La Rosalie des Alpes

Le Mulot sylvestre

12 « Le bac à chaîne »

A quoi peut servir un bac ?

- à faire traverser des personnes
- à faire traverser des automobiles
- à faire traverser des animaux
- à faire traverser des canoës



13 « Les lavandières de Mansle »

1) Autrefois, dans les familles modestes, il était coutumier de faire deux lessives par an.

- vrai faux

2) Avant l'apparition du savon, on utilisait de la cendre pour nettoyer le linge.

- vrai faux

3) Qu'est-ce qui a remplacé les lavoirs de nos jours ?




14 « Le pont de Mansle »

Pourquoi a-t-on construit ce pont ? (débat à l'oral)

Pour une autre fois... vous pourriez effectuer le sentier de l'Étouyer

1 « Une frayère sous surveillance »

Qu'est-ce que cette cage ? Que peut-on trouver dedans ?



Revenez sur vos pas pour atteindre le panneau 2

2 « L'Étouyer, bras de la Charente »

Pourquoi dit-on que le fleuve a des bras ? D'où vient l'eau qui y coule ?



La pêche « au temps des braconniers »

Pourquoi pêchait-on autrefois ? Quel poisson était le plus recherché ?

3 « le vivier à poisson »

Dans le vivier, que conservait-on ? (coche les bonnes réponses) :

- anguille saumon vairon requin

4 La végétation des berges

Retrouve 2 espèces qui habitent dans la végétation des berges (coche les bonnes réponses).



6 La ripisylve

Cite un animal que tu peux croiser ici :

Musée du Braconnier :

Entoure ce qui était utilisé par les braconniers pour pêcher.

